









## تمرین


نمای سوزنی بافت را به ازای مسیر های بادامکی و پایه ریزی سوزنها بصورت زیر تعیین کنید. در هر دو حالت ۴ سوزن با پایه ریزی مستقیم استفاده شده اند.


System Nr.	1	2					
Nadelbahn Nr. 4							
Nadelbahn Nr. 3							
Nadelbahn Nr. 2							
Nadelbahn Nr. 1							

Systeme pro Rapport : 2

Schloßteile pro Rapport :

 = 4  
ZA  
Stricken

 = 4  
ZB  
Fang

















 = 0  
ZC  
Rundlauf

Nadeleinsatz  
(Diagonaleinsatz) :




Nadel Nr.


Nadelrapport :


System Nr.	1	2	3	4			
Nadelbahn Nr. 4							
Nadelbahn Nr. 3							
Nadelbahn Nr. 2							
Nadelbahn Nr. 1							

Systeme pro Rapport : 4

Schloßteile pro Rapport :

 = 12  
ZA  
Stricken

 = 4  
ZB  
Fang

 = 0  
ZC  
Rundlauf